

**Муниципальное бюджетное образовательное учреждение  
Волковская средняя общеобразовательная школа**

**Выписка  
из основной образовательной программы основного общего  
образования (ООП ООО)**

**РАБОЧАЯ ПРОГРАММА (ID 3171987)  
учебного предмета «Вероятность и статистика»  
для обучающихся 7-9 классов**

**Составители: Маргазов К.А.  
Вахрушева Н.В.  
Вахитова Л.Л.  
Сарварова Л.Ф  
Учителя МБОУ Волковская СОШ**

**пос. Новый**

## ПОЯСНИТЕЛЬНАЯ ЗАПИСКА

В современном цифровом мире вероятность и статистика приобретают всё большую значимость, как с точки зрения практических приложений, так и их роли в образовании, необходимом каждому человеку. Возрастает число профессий, при овладении которыми требуется хорошая базовая подготовка в области вероятности и статистики, такая подготовка важна для продолжения образования и для успешной профессиональной карьеры.

Каждый человек постоянно принимает решения на основе имеющихся у него данных. А для обоснованного принятия решения в условиях недостатка или избытка информации необходимо в том числе хорошо сформированное вероятностное и статистическое мышление.

Именно поэтому остро встала необходимость сформировать у обучающихся функциональную грамотность, включающую в себя в качестве неотъемлемой составляющей умение воспринимать и критически анализировать информацию, представленную в различных формах, понимать вероятностный характер многих реальных процессов и зависимостей, производить простейшие вероятностные расчёты.

Знакомство в учебном курсе с основными принципами сбора, анализа и представления данных из различных сфер жизни общества и государства приобщает обучающихся к общественным интересам. Изучение основ комбинаторики развивает навыки организации перебора и подсчёта числа вариантов, в том числе в прикладных задачах. Знакомство с основами теории графов создаёт математический фундамент для формирования компетенций в области информатики и цифровых технологий. При изучении статистики и вероятности обогащаются представления обучающихся о современной картине мира и методах его исследования, формируется понимание роли статистики как источника социально значимой информации и закладываются основы вероятностного мышления.

В соответствии с данными целями в структуре программы учебного курса «Вероятность и статистика» основного общего образования выделены следующие содержательно-методические линии: «Представление данных и описательная статистика», «Вероятность», «Элементы комбинаторики», «Введение в теорию графов».

Содержание линии «Представление данных и описательная статистика» служит основой для формирования навыков работы с информацией: от чтения и интерпретации информации, представленной в таблицах, на диаграммах и графиках, до сбора, представления и анализа данных с использованием статистических характеристик средних и рассеивания. Работая с данными, обучающиеся учатся считывать и интерпретировать

данные, выдвигать, аргументировать и критиковать простейшие гипотезы, размышлять над факторами, вызывающими изменчивость, и оценивать их влияние на рассматриваемые величины и процессы.

Интуитивное представление о случайной изменчивости, исследование закономерностей и тенденций становится мотивирующей основой для изучения теории вероятностей. Большое значение имеют практические задания, в частности опыты с классическими вероятностными моделями.

Понятие вероятности вводится как мера правдоподобия случайного события. При изучении учебного курса обучающиеся знакомятся с простейшими методами вычисления вероятностей в случайных экспериментах с равновозможными элементарными исходами, вероятностными законами, позволяющими ставить и решать более сложные задачи. В учебный курс входят начальные представления о случайных величинах и их числовых характеристиках.

В рамках учебного курса осуществляется знакомство обучающихся с множествами и основными операциями над множествами, рассматриваются примеры применения для решения задач, а также использования в других математических курсах и учебных предметах.

В 7–9 классах изучается учебный курс «Вероятность и статистика», в который входят разделы: «Представление данных и описательная статистика», «Вероятность», «Элементы комбинаторики», «Введение в теорию графов».

На изучение учебного курса «Вероятность и статистика» отводится 102 часа: в 7 классе – 34 часа (1 час в неделю), в 8 классе – 34 часа (1 час в неделю), в 9 классе – 34 часа (1 час в неделю).

## **СОДЕРЖАНИЕ ОБУЧЕНИЯ**

### **7 КЛАСС**

Представление данных в виде таблиц, диаграмм, графиков. Заполнение таблиц, чтение и построение диаграмм (столбиковых (столбчатых) и круговых). Чтение графиков реальных процессов. Извлечение информации из диаграмм и таблиц, использование и интерпретация данных.

Описательная статистика: среднее арифметическое, медиана, размах, наибольшее и наименьшее значения набора числовых данных. Примеры случайной изменчивости.

Случайный эксперимент (опыт) и случайное событие. Вероятность и частота. Роль маловероятных и практически достоверных событий в природе и в обществе. Монета и игральная кость в теории вероятностей.

Граф, вершина, ребро. Степень вершины. Число рёбер и суммарная степень вершин. Представление о связности графа. Цепи и циклы. Пути в графах. Обход графа (эйлеров путь). Представление об ориентированном графе. Решение задач с помощью графов.

### **8 КЛАСС**

Представление данных в виде таблиц, диаграмм, графиков.

Множество, элемент множества, подмножество. Операции над множествами: объединение, пересечение, дополнение. Свойства операций над множествами: переместительное, сочетательное, распределительное, включения. Использование графического представления множеств для описания реальных процессов и явлений, при решении задач.

Измерение рассеивания данных. Дисперсия и стандартное отклонение числовых наборов. Диаграмма рассеивания.

Элементарные события случайного опыта. Случайные события. Вероятности событий. Опыты с равновероятными элементарными событиями. Случайный выбор. Связь между маловероятными и практически достоверными событиями в природе, обществе и науке.

Дерево. Свойства деревьев: единственность пути, существование всячей вершины, связь между числом вершин и числом рёбер. Правило умножения. Решение задач с помощью графов.

Противоположные события. Диаграмма Эйлера. Объединение и пересечение событий. Несовместные события. Формула сложения вероятностей. Условная вероятность. Правило умножения. Независимые события. Представление эксперимента в виде дерева. Решение задач на

нахождение вероятностей с помощью дерева случайного эксперимента, диаграмм Эйлера.

### **9 КЛАСС**

Представление данных в виде таблиц, диаграмм, графиков, интерпретация данных. Чтение и построение таблиц, диаграмм, графиков по реальным данным.

Перестановки и факториал. Сочетания и число сочетаний. Треугольник Паскаля. Решение задач с использованием комбинаторики.

Геометрическая вероятность. Случайный выбор точки из фигуры на плоскости, из отрезка и из дуги окружности.

Испытание. Успех и неудача. Серия испытаний до первого успеха. Серия испытаний Бернулли. Вероятности событий в серии испытаний Бернулли.

Случайная величина и распределение вероятностей. Математическое ожидание и дисперсия. Примеры математического ожидания как теоретического среднего значения величины. Математическое ожидание и дисперсия случайной величины «число успехов в серии испытаний Бернулли».

Понятие о законе больших чисел. Измерение вероятностей с помощью частот. Роль и значение закона больших чисел в природе и обществе.

# ПЛАНИРУЕМЫЕ РЕЗУЛЬТАТЫ ОСВОЕНИЯ ПРОГРАММЫ УЧЕБНОГО КУРСА «ВЕРОЯТНОСТЬ И СТАТИСТИКА» НА УРОВНЕ ОСНОВНОГО ОБЩЕГО ОБРАЗОВАНИЯ

## ЛИЧНОСТНЫЕ РЕЗУЛЬТАТЫ

**Личностные результаты** освоения программы учебного курса «Вероятность и статистика» характеризуются:

### **1) патриотическое воспитание:**

проявлением интереса к прошлому и настоящему российской математики, ценностным отношением к достижениям российских математиков и российской математической школы, к использованию этих достижений в других науках и прикладных сферах;

### **2) гражданское и духовно-нравственное воспитание:**

готовностью к выполнению обязанностей гражданина и реализации его прав, представлением о математических основах функционирования различных структур, явлений, процедур гражданского общества (например, выборы, опросы), готовностью к обсуждению этических проблем, связанных с практическим применением достижений науки, осознанием важности морально-этических принципов в деятельности учёного;

### **3) трудовое воспитание:**

установкой на активное участие в решении практических задач математической направленности, осознанием важности математического образования на протяжении всей жизни для успешной профессиональной деятельности и развитием необходимых умений, осознанным выбором и построением индивидуальной траектории образования и жизненных планов с учётом личных интересов и общественных потребностей;

### **4) эстетическое воспитание:**

способностью к эмоциональному и эстетическому восприятию математических объектов, задач, решений, рассуждений, умению видеть математические закономерности в искусстве;

### **5) ценности научного познания:**

ориентацией в деятельности на современную систему научных представлений об основных закономерностях развития человека, природы и общества, пониманием математической науки как сферы человеческой деятельности, этапов её развития и значимости для развития цивилизации, овладением языком математики и математической культурой как средством познания мира, овладением простейшими навыками исследовательской деятельности;

## **б) физическое воспитание, формирование культуры здоровья и эмоционального благополучия:**

готовностью применять математические знания в интересах своего здоровья, ведения здорового образа жизни (здоровое питание, сбалансированный режим занятий и отдыха, регулярная физическая активность), сформированностью навыка рефлексии, признанием своего права на ошибку и такого же права другого человека;

## **7) экологическое воспитание:**

ориентацией на применение математических знаний для решения задач в области сохранности окружающей среды, планирования поступков и оценки их возможных последствий для окружающей среды, осознанием глобального характера экологических проблем и путей их решения;

## **8) адаптация к изменяющимся условиям социальной и природной среды:**

готовностью к действиям в условиях неопределённости, повышению уровня своей компетентности через практическую деятельность, в том числе умение учиться у других людей, приобретать в совместной деятельности новые знания, навыки и компетенции из опыта других;

необходимостью в формировании новых знаний, в том числе формулировать идеи, понятия, гипотезы об объектах и явлениях, в том числе ранее неизвестных, осознавать дефициты собственных знаний и компетентностей, планировать своё развитие;

способностью осознавать стрессовую ситуацию, воспринимать стрессовую ситуацию как вызов, требующий контрмер, корректировать принимаемые решения и действия, формулировать и оценивать риски и последствия, формировать опыт.

## **МЕТАПРЕДМЕТНЫЕ РЕЗУЛЬТАТЫ**

### **Познавательные универсальные учебные действия**

#### **Базовые логические действия:**

- выявлять и характеризовать существенные признаки математических объектов, понятий, отношений между понятиями, формулировать определения понятий, устанавливать существенный признак классификации, основания для обобщения и сравнения, критерии проводимого анализа;
- воспринимать, формулировать и преобразовывать суждения: утвердительные и отрицательные, единичные, частные и общие, условные;

- выявлять математические закономерности, взаимосвязи и противоречия в фактах, данных, наблюдениях и утверждениях, предлагать критерии для выявления закономерностей и противоречий;
- делать выводы с использованием законов логики, дедуктивных и индуктивных умозаключений, умозаключений по аналогии;
- разбирать доказательства математических утверждений (прямые и от противного), проводить самостоятельно несложные доказательства математических фактов, выстраивать аргументацию, приводить примеры и контрпримеры, обосновывать собственные рассуждения;
- выбирать способ решения учебной задачи (сравнивать несколько вариантов решения, выбирать наиболее подходящий с учётом самостоятельно выделенных критериев).

#### **Базовые исследовательские действия:**

- использовать вопросы как исследовательский инструмент познания, формулировать вопросы, фиксирующие противоречие, проблему, самостоятельно устанавливать искомое и данное, формировать гипотезу, аргументировать свою позицию, мнение;
- проводить по самостоятельно составленному плану несложный эксперимент, небольшое исследование по установлению особенностей математического объекта, зависимостей объектов между собой;
- самостоятельно формулировать обобщения и выводы по результатам проведённого наблюдения, исследования, оценивать достоверность полученных результатов, выводов и обобщений;
- прогнозировать возможное развитие процесса, а также выдвигать предположения о его развитии в новых условиях.

#### **Работа с информацией:**

- выявлять недостаточность и избыточность информации, данных, необходимых для решения задачи;
- выбирать, анализировать, систематизировать и интерпретировать информацию различных видов и форм представления;
- выбирать форму представления информации и иллюстрировать решаемые задачи схемами, диаграммами, иной графикой и их комбинациями;
- оценивать надёжность информации по критериям, предложенным учителем или сформулированным самостоятельно.

#### **Коммуникативные универсальные учебные действия:**

- воспринимать и формулировать суждения в соответствии с условиями и целями общения, ясно, точно, грамотно выражать свою точку зрения



- в устных и письменных текстах, давать пояснения по ходу решения задачи, комментировать полученный результат;
- в ходе обсуждения задавать вопросы по существу обсуждаемой темы, проблемы, решаемой задачи, высказывать идеи, нацеленные на поиск решения, сопоставлять свои суждения с суждениями других участников диалога, обнаруживать различие и сходство позиций, в корректной форме формулировать разногласия, свои возражения;
  - представлять результаты решения задачи, эксперимента, исследования, проекта, самостоятельно выбирать формат выступления с учётом задач презентации и особенностей аудитории;
  - понимать и использовать преимущества командной и индивидуальной работы при решении учебных математических задач;
  - принимать цель совместной деятельности, планировать организацию совместной работы, распределять виды работ, договариваться, обсуждать процесс и результат работы, обобщать мнения нескольких людей;
  - участвовать в групповых формах работы (обсуждения, обмен мнениями, мозговые штурмы и другие), выполнять свою часть работы и координировать свои действия с другими членами команды, оценивать качество своего вклада в общий продукт по критериям, сформулированным участниками взаимодействия.

## **Регулятивные универсальные учебные действия**

### **Самоорганизация:**

- самостоятельно составлять план, алгоритм решения задачи (или его часть), выбирать способ решения с учётом имеющихся ресурсов и собственных возможностей, аргументировать и корректировать варианты решений с учётом новой информации.

### **Самоконтроль, эмоциональный интеллект:**

- владеть способами самопроверки, самоконтроля процесса и результата решения математической задачи;
- предвидеть трудности, которые могут возникнуть при решении задачи, вносить коррективы в деятельность на основе новых обстоятельств, найденных ошибок, выявленных трудностей;
- оценивать соответствие результата деятельности поставленной цели и условиям, объяснять причины достижения или недостижения цели, находить ошибку, давать оценку приобретённому опыту.

## ПРЕДМЕТНЫЕ РЕЗУЛЬТАТЫ

К концу обучения в **7 классе** обучающийся получит следующие предметные результаты:

Читать информацию, представленную в таблицах, на диаграммах, представлять данные в виде таблиц, строить диаграммы (столбиковые (столбчатые) и круговые) по массивам значений.

Описывать и интерпретировать реальные числовые данные, представленные в таблицах, на диаграммах, графиках.

Использовать для описания данных статистические характеристики: среднее арифметическое, медиана, наибольшее и наименьшее значения, размах.

Иметь представление о случайной изменчивости на примерах цен, физических величин, антропометрических данных, иметь представление о статистической устойчивости.

К концу обучения в **8 классе** обучающийся получит следующие предметные результаты:

Извлекать и преобразовывать информацию, представленную в виде таблиц, диаграмм, графиков, представлять данные в виде таблиц, диаграмм, графиков.

Описывать данные с помощью статистических показателей: средних значений и мер рассеивания (размах, дисперсия и стандартное отклонение).

Находить частоты числовых значений и частоты событий, в том числе по результатам измерений и наблюдений.

Находить вероятности случайных событий в опытах, зная вероятности элементарных событий, в том числе в опытах с равновозможными элементарными событиями.

Использовать графические модели: дерево случайного эксперимента, диаграммы Эйлера, числовая прямая.

Оперировать понятиями: множество, подмножество, выполнять операции над множествами: объединение, пересечение, дополнение, перечислять элементы множеств, применять свойства множеств.

Использовать графическое представление множеств и связей между ними для описания процессов и явлений, в том числе при решении задач из других учебных предметов и курсов.

К концу обучения в **9 классе** обучающийся получит следующие предметные результаты:

Извлекать и преобразовывать информацию, представленную в различных источниках в виде таблиц, диаграмм, графиков, представлять данные в виде таблиц, диаграмм, графиков.

Решать задачи организованным перебором вариантов, а также с использованием комбинаторных правил и методов.

Использовать описательные характеристики для массивов числовых данных, в том числе средние значения и меры рассеивания.

Находить частоты значений и частоты события, в том числе пользуясь результатами проведённых измерений и наблюдений.

Находить вероятности случайных событий в изученных опытах, в том числе в опытах с равновозможными элементарными событиями, в сериях испытаний до первого успеха, в сериях испытаний Бернулли.

Иметь представление о случайной величине и о распределении вероятностей.

Иметь представление о законе больших чисел как о проявлении закономерности в случайной изменчивости и о роли закона больших чисел в природе и обществе.

**ТЕМАТИЧЕСКОЕ ПЛАНИРОВАНИЕ  
7 КЛАСС**

№ п/п	Наименование разделов и тем программы	Количество часов			Электронные (цифровые) образовательные ресурсы
		Всего	Контрольные работы	Практические работы	
1	Представление данных	7		2	Библиотека ЦОК <a href="https://m.edsoo.ru/7f415fdc">https://m.edsoo.ru/7f415fdc</a>
2	Описательная статистика	8		1	Библиотека ЦОК <a href="https://m.edsoo.ru/7f415fdc">https://m.edsoo.ru/7f415fdc</a>
3	Случайная изменчивость	6		1	Библиотека ЦОК <a href="https://m.edsoo.ru/7f415fdc">https://m.edsoo.ru/7f415fdc</a>
4	Введение в теорию графов	4			Библиотека ЦОК <a href="https://m.edsoo.ru/7f415fdc">https://m.edsoo.ru/7f415fdc</a>
5	Вероятность и частота случайного события	4		1	Библиотека ЦОК <a href="https://m.edsoo.ru/7f415fdc">https://m.edsoo.ru/7f415fdc</a>
6	Обобщение, систематизация знаний	5	2		Библиотека ЦОК <a href="https://m.edsoo.ru/7f415fdc">https://m.edsoo.ru/7f415fdc</a>
ОБЩЕЕ КОЛИЧЕСТВО ЧАСОВ ПО ПРОГРАММЕ		34	2	5	

## 8 КЛАСС

№ п/п	Наименование разделов и тем программы	Количество часов			Электронные (цифровые) образовательные ресурсы
		Всего	Контрольные работы	Практические работы	
1	Повторение курса 7 класса	4			Библиотека ЦОК <a href="https://m.edsoo.ru/7f417fb2">https://m.edsoo.ru/7f417fb2</a>
2	Описательная статистика. Рассеивание данных	4			Библиотека ЦОК <a href="https://m.edsoo.ru/7f417fb2">https://m.edsoo.ru/7f417fb2</a>
3	Множества	4			Библиотека ЦОК <a href="https://m.edsoo.ru/7f417fb2">https://m.edsoo.ru/7f417fb2</a>
4	Вероятность случайного события	6		1	Библиотека ЦОК <a href="https://m.edsoo.ru/7f417fb2">https://m.edsoo.ru/7f417fb2</a>
5	Введение в теорию графов	4			Библиотека ЦОК <a href="https://m.edsoo.ru/7f417fb2">https://m.edsoo.ru/7f417fb2</a>
6	Случайные события	8			Библиотека ЦОК <a href="https://m.edsoo.ru/7f417fb2">https://m.edsoo.ru/7f417fb2</a>
7	Обобщение, систематизация знаний	4	2		Библиотека ЦОК <a href="https://m.edsoo.ru/7f417fb2">https://m.edsoo.ru/7f417fb2</a>
ОБЩЕЕ КОЛИЧЕСТВО ЧАСОВ ПО ПРОГРАММЕ		34	2	1	

## 9 КЛАСС

№ п/п	Наименование разделов и тем программы	Количество часов			Электронные (цифровые) образовательные ресурсы
		Всего	Контрольные работы	Практические работы	
1	Повторение курса 8 класса	4			Библиотека ЦОК <a href="https://m.edsoo.ru/7f41a302">https://m.edsoo.ru/7f41a302</a>
2	Элементы комбинаторики	4		1	Библиотека ЦОК <a href="https://m.edsoo.ru/7f41a302">https://m.edsoo.ru/7f41a302</a>
3	Геометрическая вероятность	4			Библиотека ЦОК <a href="https://m.edsoo.ru/7f41a302">https://m.edsoo.ru/7f41a302</a>
4	Испытания Бернулли	6		1	Библиотека ЦОК <a href="https://m.edsoo.ru/7f41a302">https://m.edsoo.ru/7f41a302</a>
5	Случайная величина	6			Библиотека ЦОК <a href="https://m.edsoo.ru/7f41a302">https://m.edsoo.ru/7f41a302</a>
6	Обобщение, контроль	10	1		Библиотека ЦОК <a href="https://m.edsoo.ru/7f41a302">https://m.edsoo.ru/7f41a302</a>
ОБЩЕЕ КОЛИЧЕСТВО ЧАСОВ ПО ПРОГРАММЕ		34	1	2	

**ПОУРОЧНОЕ ПЛАНИРОВАНИЕ**  
**7 КЛАСС**

№ п/п	Тема урока	Количество часов			Электронные цифровые образовательные ресурсы
		Всего	Контрольные работы	Практические работы	
1	Представление данных в таблицах	1			Библиотека ЦОК <a href="https://m.edsoo.ru/863ec1f8">https://m.edsoo.ru/863ec1f8</a>
2	Практические вычисления по табличным данным	1			Библиотека ЦОК <a href="https://m.edsoo.ru/863ec324">https://m.edsoo.ru/863ec324</a>
3	Извлечение и интерпретация табличных данных	1			Библиотека ЦОК <a href="https://m.edsoo.ru/863ec78e">https://m.edsoo.ru/863ec78e</a>
4	Практическая работа "Таблицы"	1		1	
5	Графическое представление данных в виде круговых, столбиковых (столбчатых) диаграмм	1			Библиотека ЦОК <a href="https://m.edsoo.ru/863ed18e">https://m.edsoo.ru/863ed18e</a>
6	Чтение и построение диаграмм. Примеры демографических диаграмм	1			Библиотека ЦОК <a href="https://m.edsoo.ru/863ed602">https://m.edsoo.ru/863ed602</a>
7	Практическая работа "Диаграммы"	1		1	Библиотека ЦОК <a href="https://m.edsoo.ru/863ed72e">https://m.edsoo.ru/863ed72e</a>
8	Числовые наборы. Среднее арифметическое	1			Библиотека ЦОК <a href="https://m.edsoo.ru/863ed846">https://m.edsoo.ru/863ed846</a>
9	Числовые наборы. Среднее арифметическое	1			Библиотека ЦОК <a href="https://m.edsoo.ru/863ed846">https://m.edsoo.ru/863ed846</a>
10	Медиана числового набора. Устойчивость медианы	1			Библиотека ЦОК <a href="https://m.edsoo.ru/863edb3e">https://m.edsoo.ru/863edb3e</a>
11	Медиана числового набора.	1			

	Устойчивость медианы				
12	Практическая работа "Средние значения"	1		1	Библиотека ЦОК <a href="https://m.edsoo.ru/863edc6a">https://m.edsoo.ru/863edc6a</a>
13	Наибольшее и наименьшее значения числового набора. Размах	1			Библиотека ЦОК <a href="https://m.edsoo.ru/863ee07a">https://m.edsoo.ru/863ee07a</a>
14	Наибольшее и наименьшее значения числового набора. Размах	1			
15	Наибольшее и наименьшее значения числового набора. Размах	1			
16	Контрольная работа по темам "Представление данных. Описательная статистика"	1	1		Библиотека ЦОК <a href="https://m.edsoo.ru/863ee390">https://m.edsoo.ru/863ee390</a>
17	Случайная изменчивость (примеры)	1			Библиотека ЦОК <a href="https://m.edsoo.ru/863ee4bc">https://m.edsoo.ru/863ee4bc</a>
18	Частота значений в массиве данных	1			Библиотека ЦОК <a href="https://m.edsoo.ru/863ee69c">https://m.edsoo.ru/863ee69c</a>
19	Группировка	1			Библиотека ЦОК <a href="https://m.edsoo.ru/863ee9d0">https://m.edsoo.ru/863ee9d0</a>
20	Гистограммы	1			
21	Гистограммы	1			Библиотека ЦОК <a href="https://m.edsoo.ru/863eee1c">https://m.edsoo.ru/863eee1c</a>
22	Практическая работа "Случайная изменчивость"	1		1	Библиотека ЦОК <a href="https://m.edsoo.ru/863eccc8">https://m.edsoo.ru/863eccc8</a>
23	Граф, вершина, ребро. Представление задачи с помощью графа	1			Библиотека ЦОК <a href="https://m.edsoo.ru/863eef52">https://m.edsoo.ru/863eef52</a>
24	Степень (валентность) вершины. Число рёбер и суммарная степень вершин. Цепь и цикл	1			Библиотека ЦОК <a href="https://m.edsoo.ru/863ef0ba">https://m.edsoo.ru/863ef0ba</a>



25	Цепь и цикл. Путь в графе. Представление о связности графа	1			Библиотека ЦОК <a href="https://m.edsoo.ru/863ef236">https://m.edsoo.ru/863ef236</a>
26	Представление об ориентированных графах	1			Библиотека ЦОК <a href="https://m.edsoo.ru/863ef3b2">https://m.edsoo.ru/863ef3b2</a>
27	Случайный опыт и случайное событие	1			Библиотека ЦОК <a href="https://m.edsoo.ru/863ef4d4">https://m.edsoo.ru/863ef4d4</a>
28	Вероятность и частота события. Роль маловероятных и практически достоверных событий в природе и в обществе	1			Библиотека ЦОК <a href="https://m.edsoo.ru/863ef646">https://m.edsoo.ru/863ef646</a>
29	Монета и игральная кость в теории вероятностей	1			
30	Практическая работа "Частота выпадения орла"	1		1	Библиотека ЦОК <a href="https://m.edsoo.ru/863ef8a8">https://m.edsoo.ru/863ef8a8</a>
31	Контрольная работа по темам "Случайная изменчивость. Графы. Вероятность случайного события"	1	1		Библиотека ЦОК <a href="https://m.edsoo.ru/863f0186">https://m.edsoo.ru/863f0186</a>
32	Повторение, обобщение. Представление данных	1			Библиотека ЦОК <a href="https://m.edsoo.ru/863efa24">https://m.edsoo.ru/863efa24</a>
33	Повторение, обобщение. Описательная статистика	1			Библиотека ЦОК <a href="https://m.edsoo.ru/863efbaa">https://m.edsoo.ru/863efbaa</a>
34	Повторение, обобщение. Вероятность случайного события	1			Библиотека ЦОК <a href="https://m.edsoo.ru/863efec0">https://m.edsoo.ru/863efec0</a>
ОБЩЕЕ КОЛИЧЕСТВО ЧАСОВ ПО ПРОГРАММЕ		34	2	5	

## 8 КЛАСС

№ п/п	Тема урока	Количество часов			Электронные цифровые образовательные ресурсы
		Всего	Контрольные работы	Практические работы	
1	Представление данных. Описательная статистика	1			Библиотека ЦОК <a href="https://m.edsoo.ru/863f029e">https://m.edsoo.ru/863f029e</a>
2	Случайная изменчивость. Средние числового набора	1			Библиотека ЦОК <a href="https://m.edsoo.ru/863f03fc">https://m.edsoo.ru/863f03fc</a>
3	Случайные события. Вероятности и частоты	1			Библиотека ЦОК <a href="https://m.edsoo.ru/863f0578">https://m.edsoo.ru/863f0578</a>
4	Классические модели теории вероятностей: монета и игральная кость	1			Библиотека ЦОК <a href="https://m.edsoo.ru/863f076c">https://m.edsoo.ru/863f076c</a>
5	Отклонения	1			Библиотека ЦОК <a href="https://m.edsoo.ru/863f0a50">https://m.edsoo.ru/863f0a50</a>
6	Дисперсия числового набора	1			Библиотека ЦОК <a href="https://m.edsoo.ru/863f0a50">https://m.edsoo.ru/863f0a50</a>
7	Стандартное отклонение числового набора	1			Библиотека ЦОК <a href="https://m.edsoo.ru/863f0bfe">https://m.edsoo.ru/863f0bfe</a>
8	Диаграммы рассеивания	1			Библиотека ЦОК <a href="https://m.edsoo.ru/863f0ea6">https://m.edsoo.ru/863f0ea6</a>
9	Множество, подмножество	1			Библиотека ЦОК <a href="https://m.edsoo.ru/863f1180">https://m.edsoo.ru/863f1180</a>
10	Операции над множествами: объединение, пересечение, дополнение	1			Библиотека ЦОК <a href="https://m.edsoo.ru/863f143c">https://m.edsoo.ru/863f143c</a>
11	Свойства операций над множествами: переместительное, сочетательное,	1			Библиотека ЦОК <a href="https://m.edsoo.ru/863f1784">https://m.edsoo.ru/863f1784</a>

	распределительное, включения				
12	Графическое представление множеств	1			Библиотека ЦОК <a href="https://m.edsoo.ru/863f198c">https://m.edsoo.ru/863f198c</a>
13	Контрольная работа по темам "Статистика. Множества"	1	1		
14	Элементарные события. Случайные события	1			Библиотека ЦОК <a href="https://m.edsoo.ru/863f1dec">https://m.edsoo.ru/863f1dec</a>
15	Благоприятствующие элементарные события. Вероятности событий	1			Библиотека ЦОК <a href="https://m.edsoo.ru/863f1dec">https://m.edsoo.ru/863f1dec</a>
16	Благоприятствующие элементарные события. Вероятности событий	1			Библиотека ЦОК <a href="https://m.edsoo.ru/863f1f72">https://m.edsoo.ru/863f1f72</a>
17	Опыты с равновозможными элементарными событиями. Случайный выбор	1			Библиотека ЦОК <a href="https://m.edsoo.ru/863f21ca">https://m.edsoo.ru/863f21ca</a>
18	Опыты с равновозможными элементарными событиями. Случайный выбор	1			Библиотека ЦОК <a href="https://m.edsoo.ru/863f21ca">https://m.edsoo.ru/863f21ca</a>
19	Практическая работа "Опыты с равновозможными элементарными событиями"	1		1	Библиотека ЦОК <a href="https://m.edsoo.ru/863f235a">https://m.edsoo.ru/863f235a</a>
20	Дерево	1			Библиотека ЦОК <a href="https://m.edsoo.ru/863f2a4e">https://m.edsoo.ru/863f2a4e</a>
21	Свойства дерева: единственность пути, существование висячей вершины, связь между числом вершин и числом рёбер	1			Библиотека ЦОК <a href="https://m.edsoo.ru/863f2bac">https://m.edsoo.ru/863f2bac</a>
22	Правило умножения	1			Библиотека ЦОК <a href="https://m.edsoo.ru/863f2cd8">https://m.edsoo.ru/863f2cd8</a>
23	Правило умножения	1			Библиотека ЦОК

					<a href="https://m.edsoo.ru/863f2e36">https://m.edsoo.ru/863f2e36</a>
24	Противоположное событие	1			Библиотека ЦОК <a href="https://m.edsoo.ru/863f2f8a">https://m.edsoo.ru/863f2f8a</a>
25	Диаграмма Эйлера. Объединение и пересечение событий	1			Библиотека ЦОК <a href="https://m.edsoo.ru/863f3214">https://m.edsoo.ru/863f3214</a>
26	Несовместные события. Формула сложения вероятностей	1			Библиотека ЦОК <a href="https://m.edsoo.ru/863f3372">https://m.edsoo.ru/863f3372</a>
27	Несовместные события. Формула сложения вероятностей	1			Библиотека ЦОК <a href="https://m.edsoo.ru/863f3764">https://m.edsoo.ru/863f3764</a>
28	Правило умножения вероятностей. Условная вероятность. Независимые события	1			Библиотека ЦОК <a href="https://m.edsoo.ru/863f38ae">https://m.edsoo.ru/863f38ae</a>
29	Правило умножения вероятностей. Условная вероятность. Независимые события	1			Библиотека ЦОК <a href="https://m.edsoo.ru/863f3b06">https://m.edsoo.ru/863f3b06</a>
30	Представление случайного эксперимента в виде дерева	1			Библиотека ЦОК <a href="https://m.edsoo.ru/863f3cbe">https://m.edsoo.ru/863f3cbe</a>
31	Представление случайного эксперимента в виде дерева	1			Библиотека ЦОК <a href="https://m.edsoo.ru/863f3f20">https://m.edsoo.ru/863f3f20</a>
32	Повторение, обобщение. Представление данных. Описательная статистика	1			Библиотека ЦОК <a href="https://m.edsoo.ru/863f4128">https://m.edsoo.ru/863f4128</a>
33	Повторение, обобщение. Графы	1			Библиотека ЦОК <a href="https://m.edsoo.ru/863f4312">https://m.edsoo.ru/863f4312</a>
34	Контрольная работа по темам "Случайные события. Вероятность. Графы"	1	1		
ОБЩЕЕ КОЛИЧЕСТВО ЧАСОВ ПО ПРОГРАММЕ		34	2	1	

## 9 КЛАСС

№ п/п	Тема урока	Количество часов			Электронные цифровые образовательные ресурсы
		Всего	Контрольные работы	Практические работы	
1	Представление данных	1			Библиотека ЦОК <a href="https://m.edsoo.ru/863f47ea">https://m.edsoo.ru/863f47ea</a>
2	Описательная статистика	1			Библиотека ЦОК <a href="https://m.edsoo.ru/863f47ea">https://m.edsoo.ru/863f47ea</a>
3	Операции над событиями	1			
4	Независимость событий	1			
5	Комбинаторное правило умножения	1			Библиотека ЦОК <a href="https://m.edsoo.ru/863f4e16">https://m.edsoo.ru/863f4e16</a>
6	Перестановки. Факториал. Сочетания и число сочетаний	1			Библиотека ЦОК <a href="https://m.edsoo.ru/863f4e16">https://m.edsoo.ru/863f4e16</a>
7	Треугольник Паскаля	1			Библиотека ЦОК <a href="https://m.edsoo.ru/863f5014">https://m.edsoo.ru/863f5014</a>
8	Практическая работа "Вычисление вероятностей с использованием комбинаторных функций электронных таблиц"	1		1	Библиотека ЦОК <a href="https://m.edsoo.ru/863f5208">https://m.edsoo.ru/863f5208</a>
9	Геометрическая вероятность. Случайный выбор точки из фигуры на плоскости, из отрезка, из дуги окружности	1			Библиотека ЦОК <a href="https://m.edsoo.ru/863f5884">https://m.edsoo.ru/863f5884</a>
10	Геометрическая вероятность. Случайный выбор точки из фигуры на плоскости, из отрезка, из дуги окружности	1			Библиотека ЦОК <a href="https://m.edsoo.ru/863f5a50">https://m.edsoo.ru/863f5a50</a>

11	Геометрическая вероятность. Случайный выбор точки из фигуры на плоскости, из отрезка, из дуги окружности	1			Библиотека ЦОК <a href="https://m.edsoo.ru/863f5bfe">https://m.edsoo.ru/863f5bfe</a>
12	Геометрическая вероятность. Случайный выбор точки из фигуры на плоскости, из отрезка, из дуги окружности	1			Библиотека ЦОК <a href="https://m.edsoo.ru/863f5e10">https://m.edsoo.ru/863f5e10</a>
13	Испытание. Успех и неудача. Серия испытаний до первого успеха	1			Библиотека ЦОК <a href="https://m.edsoo.ru/863f6162">https://m.edsoo.ru/863f6162</a>
14	Испытание. Успех и неудача. Серия испытаний до первого успеха	1			Библиотека ЦОК <a href="https://m.edsoo.ru/863f6356">https://m.edsoo.ru/863f6356</a>
15	Испытание. Успех и неудача. Серия испытаний до первого успеха	1			
16	Испытания Бернулли. Вероятности событий в серии испытаний Бернулли	1			Библиотека ЦОК <a href="https://m.edsoo.ru/863f64d2">https://m.edsoo.ru/863f64d2</a>
17	Испытания Бернулли. Вероятности событий в серии испытаний Бернулли	1			Библиотека ЦОК <a href="https://m.edsoo.ru/863f6680">https://m.edsoo.ru/863f6680</a>
18	Практическая работа "Испытания Бернулли"	1		1	Библиотека ЦОК <a href="https://m.edsoo.ru/863f67de">https://m.edsoo.ru/863f67de</a>
19	Случайная величина и распределение вероятностей	1			Библиотека ЦОК <a href="https://m.edsoo.ru/863f6b44">https://m.edsoo.ru/863f6b44</a>
20	Математическое ожидание и дисперсия случайной величины	1			Библиотека ЦОК <a href="https://m.edsoo.ru/863f6da6">https://m.edsoo.ru/863f6da6</a>
21	Примеры математического ожидания как теоретического среднего значения величины	1			Библиотека ЦОК <a href="https://m.edsoo.ru/863f6f86">https://m.edsoo.ru/863f6f86</a>
22	Понятие о законе больших чисел	1			Библиотека ЦОК <a href="https://m.edsoo.ru/863f72c4">https://m.edsoo.ru/863f72c4</a>
23	Измерение вероятностей с помощью	1			Библиотека ЦОК

	частот				<a href="https://m.edsoo.ru/863f7652">https://m.edsoo.ru/863f7652</a>
24	Применение закона больших чисел	1			Библиотека ЦОК <a href="https://m.edsoo.ru/863f7116">https://m.edsoo.ru/863f7116</a>
25	Обобщение, систематизация знаний. Представление данных	1			Библиотека ЦОК <a href="https://m.edsoo.ru/863f783c">https://m.edsoo.ru/863f783c</a>
26	Обобщение, систематизация знаний. Описательная статистика	1			
27	Обобщение, систематизация знаний. Представление данных. Описательная статистика	1			Библиотека ЦОК <a href="https://m.edsoo.ru/863f893a">https://m.edsoo.ru/863f893a</a>
28	Обобщение, систематизация знаний. Вероятность случайного события	1			Библиотека ЦОК <a href="https://m.edsoo.ru/863f7a4e">https://m.edsoo.ru/863f7a4e</a>
29	Обобщение, систематизация знаний. Вероятность случайного события. Элементы комбинаторики	1			Библиотека ЦОК <a href="https://m.edsoo.ru/863f7c9c">https://m.edsoo.ru/863f7c9c</a>
30	Обобщение, систематизация знаний. Элементы комбинаторики	1			Библиотека ЦОК <a href="https://m.edsoo.ru/863f7e54">https://m.edsoo.ru/863f7e54</a>
31	Обобщение, систематизация знаний. Элементы комбинаторики. Случайные величины и распределения	1			Библиотека ЦОК <a href="https://m.edsoo.ru/863f8408">https://m.edsoo.ru/863f8408</a>
32	Обобщение, систематизация знаний. Случайные величины и распределения	1			Библиотека ЦОК <a href="https://m.edsoo.ru/863f861a">https://m.edsoo.ru/863f861a</a>
33	Итоговая контрольная работа	1	1		Библиотека ЦОК <a href="https://m.edsoo.ru/863f8b56">https://m.edsoo.ru/863f8b56</a>
34	Обобщение, систематизация знаний	1			
ОБЩЕЕ КОЛИЧЕСТВО ЧАСОВ ПО ПРОГРАММЕ		34	1	2	

**УЧЕБНО-МЕТОДИЧЕСКОЕ ОБЕСПЕЧЕНИЕ  
ОБРАЗОВАТЕЛЬНОГО ПРОЦЕССА  
ОБЯЗАТЕЛЬНЫЕ УЧЕБНЫЕ МАТЕРИАЛЫ ДЛЯ УЧЕНИКА**

Вероятность и статистика. 7-9 классы. В 2-х частях. Высоцкий И.Р., Ященко И.В 2023

**МЕТОДИЧЕСКИЕ МАТЕРИАЛЫ ДЛЯ УЧИТЕЛЯ**

Математика. Вероятность и статистика : 7—9-е классы : базовый уровень : методическое пособие к предметной линии учебников по вероятности и статистике И. Р. Высоцкого, И. В. Ященко под ред. И. В. Ященко. — 2-е изд., стер. — Москва : Просвещение, 2023.

**ЦИФРОВЫЕ ОБРАЗОВАТЕЛЬНЫЕ РЕСУРСЫ И РЕСУРСЫ СЕТИ  
ИНТЕРНЕТ**

Библиотека ЦОК



## Вариант 1

1. В таблице представлена смета расходов при покупке продуктов питания. Заполните столбец «Стоимость».

Наименование товара	Цена за кг	Вес, кг	Стоимость
Сахарный песок	25 р.	2	
Сыр	180 р.	0,4	
Мука	16 р.	2	
Рис	30 р.	1	
Картофель	20 р.	4	
Всего			

2. За диктант по русскому языку учительница поставила 7 пятерок, 9 четверок, 8 троек и 2 двойки. Постройте столбиковую диаграмму по этим данным. Вычислите среднюю оценку.

3. Дан набор чисел 1; 3; -4; 2; 7; 5. Найдите среднее значение и медиану этого набора.

4. В таблице представлено производство автомобилей на некотором автозаводе по годам.

Год	2000	2001	2002	2003	2004	2005	2006
Число автомобилей, тыс. штук	84	77	81	79	85	102	113

Составьте таблицу изменения производства автомобилей по сравнению с 2000 г. в процентах.

5\*. В таблице представлены среднемесячные температуры за первые 6 месяцев года в Волшебной стране.

Месяцы	Январь	Февраль	Март	Апрель	Май	Июнь
Температура, °С	-9	-7	-3	5	11	15

Вычислите дисперсию температуры за эти полгода. Результат округлите до десятых.

## Вариант 2

1. В таблице представлена смета расходов при покупке электротоваров. Заполните столбец «Стоимость».

Наименование товара	Цена за шт.	Кол-во	Стоимость
Лампа электрическая	5 р.	24	
Выключатель	30 р.	15	
Предохранитель	40 р.	4	
Розетка бытовая	35 р.	10	
Счетчик электроэнергии	620 р.	1	
Всего			

2. В понедельник и во вторник магазин продал по 5 автомобилей, в среду - 6, в четверг - 4, в пятницу - 8, а в субботу - 12 автомобилей. Вычислите среднее число автомобилей, проданных за день. Постройте по этим данным столбиковую диаграмму «число проданных автомобилей по дням».

3. Дан набор чисел 3; 6; 4; -2; 5; 8. Найдите среднее значение и медиану этого набора.

4. Таблица показывает, сколько пассажиров перевезла некоторая авиакомпания в каждом году.

Год	2000	2001	2002	2003	2004	2005	2006
Число пассажиров, тыс. чел.	484	375	398	467	481	407	442

Составьте таблицу изменения для числа пассажиров авиакомпании по сравнению с 2000 г. в процентах.

5\*. В таблице представлены среднемесячные температуры за 6 последних месяцев года в Тридесятом королевстве.

Месяцы	Июль	Август	Сентябрь	Октябрь	Ноябрь	Декабрь
Температура, °С	20	16	11	4	-2	-7


Вычислите дисперсию температуры за эти полгода. Результат округлите до сотых.

## 7 КЛАСС КР-2 Вариант 1

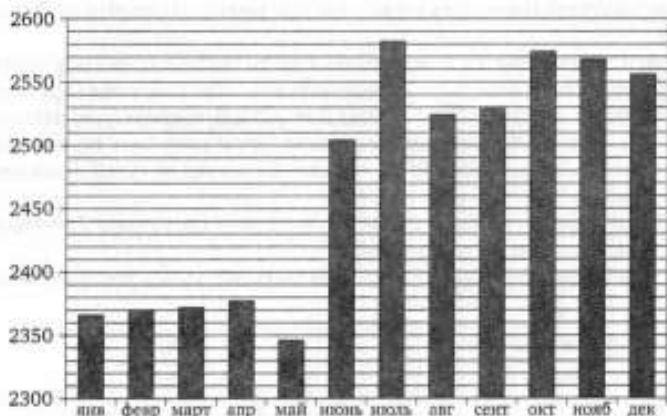
1. В таблице дана длительность каникул (в днях) в течение учебного года:

Осень	Зима	Весна	Лето	всего дней
4	22	7	87	120

Какая из четырёх круговых диаграмм верно отражает данные таблицы?



2. На диаграмме дано число рабочих на фабриках и заводах Российской Федерации в 1927 году (в тыс. чел.).



С помощью диаграммы ответьте на следующие вопросы.

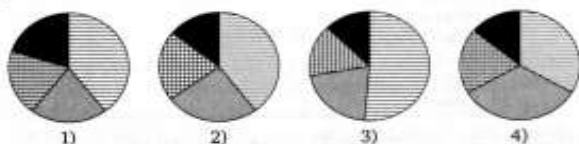
- В каком месяце 1927 года наблюдалось наиболее резкое увеличение численности рабочих?
- На сколько выросла численность рабочих в июле по сравнению с маем? Дайте примерный ответ в тыс. чел.

## КР-2 Вариант 2

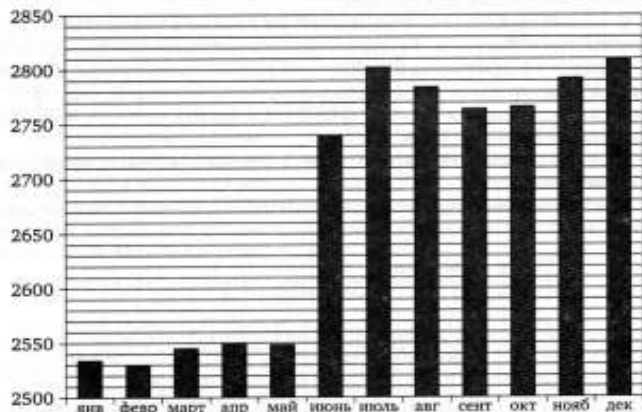
1. В таблице приведено количество уроков в третьей четверти по категориям:

Гуманитарные	Естественнонаучные	Математические	Другие	Всего
143	91	75	51	360

Какая из четырёх круговых диаграмм верно отражает данные таблицы?



2. На столбиковой диаграмме представлено число рабочих фабрик и заводов Российской Федерации в 1928 году (в тыс. чел.).



С помощью диаграммы ответьте на следующие вопросы.

- В каком месяце наблюдалось наиболее резкое увеличение численности рабочих?

в) В какие месяцы второго полугодия наблюдалось снижение численности рабочих по сравнению с предыдущим месяцем?

3. В таблице приведено число пользователей Интернета в 10 крупнейших по площади странах мира.

Страна	Число пользователей (млн)
Россия	30
Канада	24
США	220
Китай	213
Бразилия	68
Австралия	15
Индия	81
Аргентина	11
Казахстан	2
Судан	4

а) Найдите среднее арифметическое числа пользователей.

б) Найдите медиану числа пользователей.

в) Какое из найденных средних лучше характеризует численность пользователей Интернета в этих странах? Кратко обоснуйте своё мнение.

4. Швейцарские часы испытывают на точность с помощью специального теста. В ходе теста определяется ошибка измерения времени (в секундах на протяжении суток) при разной температуре, влажности и в разных положениях механизма. Часы получают сертификат точности, если размах ошибки меньше 4,5 секунд за сутки, а дисперсия меньше 3.

Если средняя ошибка в ту или иную сторону превышает 2 секунды, то часы нуждаются в регулировке.

В таблице даны результаты пяти испытаний одного часового механизма.

Номер испытания	1	2	3	4	5
Ошибка (с)	-1,1	-2,7	-0,8	-5,5	-2,9

а) Найдите среднюю ошибку, размах и дисперсию ошибки.

б) Определите, получают ли эти часы сертификат точности.

в) Определите, нуждаются ли часы в регулировке.

5. Среднее значение набора чисел равно 4, а дисперсия равна 18.

Каждое число набора изменили на противоположное. Найдите:

а) среднее значение нового набора; б) дисперсию нового набора.

б) На сколько рабочих меньше было в сентябре, чем за два месяца до этого? Дайте примерный ответ в тыс. чел.

в) В какие месяцы второго полугодия наблюдался рост числа рабочих по сравнению с предыдущим месяцем?

3. В таблице указано число станций в метрополитенах российских городов.

Город	Число станций метро
Москва	176
Санкт-Петербург	63
Волгоград	18
Нижний Новгород	13
Новосибирск	12
Самара	9
Екатеринбург	7
Казань	6

а) Найдите среднее арифметическое данного набора.

б) Найдите медиану данного набора.

в) Какое из найденных средних лучше характеризует наиболее типичный метрополитен в России?

4. Швейцарские часы испытывают на точность с помощью специального теста. В ходе теста определяется ошибка измерения времени (в секундах на протяжении суток) при разной температуре, влажности и в разных положениях механизма. Часы получают сертификат точности, если размах ошибки меньше 4,5 секунд за сутки, а дисперсия меньше 3.

Если средняя ошибка превышает 2 секунды, то часы нуждаются в регулировке.

В таблице даны результаты пяти испытаний одного часового механизма.

Номер испытания	1	2	3	4	5
Ошибка (с)	-0,4	-0,9	1,6	4,1	3,6

а) Найдите среднюю ошибку, размах и дисперсию ошибки.

б) Определите, получают ли эти часы сертификат точности.

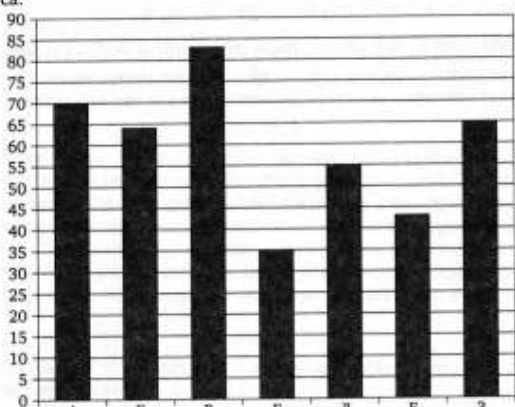
в) Определите, нуждаются ли часы в регулировке.

5. Среднее значение набора чисел равно -5, а дисперсия равна 35. Каждое число набора увеличили на 35. Найдите:

а) среднее значение нового набора; б) дисперсию нового набора.

## Вариант 8.1\_1 (2010 г.)

1. Рейтинговое агентство проводило опрос среди покупателей «Какой книжный магазин вам больше нравится?». Столбчатая диаграмма показывает рейтинги семи магазинов (в баллах) по результатам опроса.



По диаграмме определите:

а) какой магазин получил наибольшее число голосов по результатам опроса;

б) сколько магазинов набрало более 60 баллов?

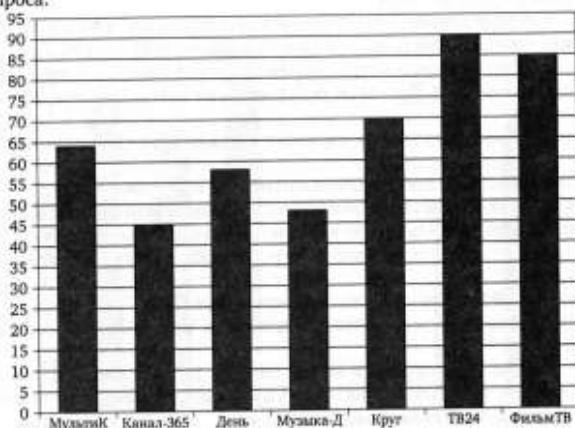
2. В таблице указано количество проданной минеральной воды (в тыс. бутылок) в весенние и летние месяцы за два года (по данным компании-производителя).

	2007	2008
Март	100	105
Апрель	104	111
Май	112	110
Июнь	119	126
Июль	120	125
Август	110	120

## КР-1 В-2

## Вариант 8.1\_2 (2010 г.)

1. Рейтинговое агентство проводило опрос среди телезрителей «Какой телеканал вам больше нравится?». На диаграмме показаны рейтинги семи телевизионных каналов (в баллах) по результатам опроса.



По диаграмме определите:

а) какой канал получил наименьшее число голосов по результатам опроса;

б) сколько каналов набрали менее 50 баллов?

2. В таблице указано количество проданных порций мороженого (в тыс. штук) в летние и осенние месяцы за два года (по данным компании-производителя).

	2007	2008
Июнь	815	843
Июль	817	915
Август	507	543
Сентябрь	411	500
Октябрь	225	450
Ноябрь	211	411

а) Вычислите среднее арифметическое данных за все летние месяцы.

б) Вычислите среднее арифметическое данных за все весенние месяцы.

в) Дайте возможное объяснение тому, что найденные показатели отличаются друг от друга.

3. В городе планируется построить метрополитен, в котором три линии — Южная, Западная и Кольцевая. Художнику поручено нарисовать схему будущего метрополитена, причем каждая линия должна иметь свой цвет. Художник использует три цвета: красный, синий и зеленый.

а) Сколько существует возможных вариантов распределения цветов?

б) Перечислите все варианты с помощью таблицы.

4. На чемпионате по художественной гимнастике выступает 18 гимнасток, среди них 3 гимнастки из России, 2 гимнастки из Китая. Порядок выступления определяется жеребьевкой. Найдите вероятность того, что:

а) первой будет выступать гимнастка из России;

б) последней будет выступать гимнастка или из России, или из Китая.

5. Иван и Пётр играют в кости. Каждый бросает кость два раза. Выигрывает тот, у кого выпавшая сумма очков больше. Если суммы очков равны, игра оканчивается вничью.

Первым бросал кости Иван, и у него выпало 5 очков и 3 очка.

Теперь бросает кости Пётр.

а) В таблице элементарных событий укажите (штриховкой) элементарные события, благоприятствующие событию «Пётр выигрывает».

б) Найдите вероятность события «Пётр выигрывает».

6. Найдите вероятность того, что в случайно выбранном семизначном телефонном номере последние четыре цифры — тройка и три двойки (в любом порядке).

Вторая кость	Первая кость					
	1	2	3	4	5	6
1						
2						
3						
4						
5						
6						

а) Вычислите среднее арифметическое данных за все летние месяцы.

б) Вычислите среднее арифметическое данных за все осенние месяцы.

в) Дайте возможное объяснение тому, что найденные показатели отличаются друг от друга.

3. В городе три района — Заречный, Фабричный и Центральный. Художнику поручено нарисовать план города, причем каждый из районов должен быть выделен своим цветом. Художник решил использовать три цвета: розовый, голубой и желтый.

а) Сколько существует возможных вариантов распределения цветов?

б) Перечислите все варианты с помощью таблицы.

4. На чемпионате по прыжкам в воду выступает 20 спортсменов, среди них 5 прыгунов из России и 3 прыгуна из США. Порядок выступления определяется жеребьевкой. Найдите вероятность того, что:

а) первым будет прыгать спортсмен из США;

б) вторым будет прыгать спортсмен или из России, или из США.

5. Татьяна и Виктория играют в кости. Каждая бросает кость дважды. Выигрывает та, у кого выпавшая сумма очков больше. Если суммы очков равны, игра оканчивается вничью.

Первой бросала кости Виктория, и у нее выпало 2 очка и 4 очка.

Теперь бросает кости Татьяна.

а) В таблице элементарных событий укажите (штриховкой) элементарные события, благоприятствующие событию «Виктория выигрывает».

б) Найдите вероятность события «Виктория выигрывает».

6. Найдите вероятность того, что в случайно выбранном семизначном телефонном номере последние пять цифр — одна семерка и четыре восьмерки (в любом порядке).

Вторая кость	Первая кость					
	1	2	3	4	5	6
1						
2						
3						
4						
5						
6						

### Вариант 1

1. В барабане лотереи 20 одинаковых шаров. Шары пронумерованы от 1 до 20. Барабан вращается, и из него выпадает один шар. Найдите вероятность того, что номер шара — четное число.

2. В результате некоторого опыта с вероятностью 0,63 может наступить событие  $A$ , с вероятностью 0,59 — событие  $B$  и с вероятностью 0,22 — событие  $A \cap B$ . Найдите вероятность события  $A \cup B$ . Является ли событие  $A \cup B$  достоверным?

3. Игральную кость бросают дважды. Найдите вероятность того, что в первый раз выпадет четное число, а во второй — число, большее чем 3.

4. В тесте 6 вопросов. К каждому вопросу дано 2 варианта ответов, из которых только один вариант верный. Найдите вероятность того, что, отвечая наугад, ученик правильно ответит хотя бы на один вопрос.

5. В кармане у Буратино 5 золотых и 6 серебряных монет. Все монеты одинаковы по форме и размеру. Буратино, не глядя, вынимает из кармана 5 монет. Найдите вероятность того, что все эти монеты — золотые.

### Вариант 2

1. Слово «Математика» написали на картонке и разрезали картонку на буквы. Буквы перемешали. Найдите вероятность вытащить наудачу картонку с гласной буквой.

2. В результате некоторого опыта с вероятностью 0,78 может наступить событие  $A$ , с вероятностью 0,34 — событие  $B$  и с вероятностью 0,12 — событие  $A \cap B$ . Найдите вероятность события  $A \cup B$ . Верно ли, что событие  $A \cup B$  достоверное?

3. Игральную кость бросают дважды. Найдите вероятность того, что в первый раз выпадет нечетное число, а во второй — число, меньшее чем 3.

4. В тесте 5 вопросов. К каждому вопросу дано 2 варианта ответов, из которых только один вариант верный. Найдите вероятность того, что, отвечая наугад, ученик даст хотя бы один неверный ответ.

5. В вазочке на шкафу 4 конфеты с фруктовой начинкой и 5 — с молочной. Все конфеты одинаковы по форме и размеру. Маша дотянулась рукой до вазочки и, не глядя, выбирает 5 конфет. Найдите вероятность того, что все выбранные конфеты имеют молочную начинку.



## Вариант 1

1. Найдите вероятность наступления ровно 3 успехов в 8 испытаниях Бернулли с вероятностью успеха  $p = \frac{1}{2}$ .

2. В таблице дано распределение случайной величины  $X$ . Чему равна пропущенная вероятность?

Значение	1	2	3	4	5	6
Вероятность	0,16	0,29		0,16	0,21	0,06

3. Игральную кость бросают один раз. Найдите математическое ожидание случайной величины «сумма кубов числа выпавших очков».

4. Игральную кость бросили 120 раз. Найдите математическое ожидание и дисперсию случайной величины «число выпадений четверки».

5\*. В квадрат со стороной 1 дм вписан круг. Внутри квадрата случайным образом выбираются две точки. Найдите вероятность того, что обе точки принадлежат кругу.

## Вариант 2

1. Найдите вероятность наступления ровно 4 успехов в 9 испытаниях Бернулли с вероятностью неудачи  $q = \frac{1}{2}$ .

2. В таблице дано распределение случайной величины  $X$ . Чему равна пропущенная вероятность?

Значение	-3	-2	-1	1	2	3
Вероятность	0,17	0,28	0,1		0,19	0,08

3. Игральную кость бросают один раз. Найдите математическое ожидание случайной величины «сумма квадратов числа выпавших очков».

4. Игральную кость бросили 180 раз. Найдите математическое ожидание и дисперсию случайной величины «число выпадений двойки».

5\*. В круг радиусом 1 дм вписан квадрат. Внутри круга случайным образом выбираются две точки. Найдите вероятность того, что обе точки принадлежат квадрату.